

تعداد سوالات: تستی: ۴۰ تشریحی: ۰

زمان آزمون (دقیقه): تستی: ۹۰ تشریحی: ۰

سری سوال: یک ۱

عنوان درس: تجارت بین الملل

رشته تحصیلی/کد درس: علوم اقتصادی (اقتصاد نظری)، علوم اقتصادی (نظری) چندبخشی ۱۲۱۸۱۸۱

۱- کدام یک از گزینه های زیر، نشانه پدیده ی جزء جزء شدن تولید می باشد؟

۱. رشد مداوم مبادله کالاهای واسطه ای و کالاهای در مراحل فرآوری
۲. رشد مداوم مبادله کالاهای سرمایه ای و کالاهای در مراحل فرآوری
۳. رشد مداوم مبادله کالاهای مصرفی و کالاهای در مراحل پایانی
۴. رشد مداوم مبادله کالاهای صنعتی و کالاهای با فن آوری بالا

۲- کدام یک از گزینه های زیر، حداکثر مقدار تولید یک کالا را با مفروض بودن تولید تمامی کالاهای دیگر نشان می دهد؟

۱. منحنی قرارداد
۲. منحنی تولید
۳. منحنی پیشنهاد
۴. منحنی منحنی تبدیل

۳- کدام یک از گزینه های زیر، وضعیت مزیت نسبی را تحت تأثیر قرار می دهد؟

۱. شرایط تقاضا
۲. شرایط عرضه
۳. شرایط عرضه و تقاضا
۴. شرایط هزینه نهایی

۴- کدام یک از گزینه های زیر، مکان هندسی تمام توزیع هایی است که نرخ نهایی جانشینی بین کشورها را برابر می سازد؟

۱. منحنی قرارداد
۲. منحنی تبدیل
۳. منحنی پیشنهاد
۴. منحنی تولید

۵- این منحنی، مکان هندسی تمام نقاطی است که منحنیهای بی تفاوتی کشور داخلی با کشور خارجی مماس است.

۱. منحنی تبدیل
۲. منحنی قرارداد
۳. منحنی تولید
۴. منحنی پیشنهاد

۶- هر نقطه ای خارج از منحنی قرارداد، از دیدگاه اقتصاددانان، مطابق کدام گزینه ی زیر است؟

۱. غیر ممکن است.
۲. وضعیت کارا به شمار می رود
۳. وضعیت ناکارا به شمار می رود.
۴. انزوای تجاری را نشان می دهد.

۷- با تغییر تغییر رابطه مبادله ناشی از کاهش قیمت کالا و اثر درآمدی منجر به کدام یک از گزینه های زیر می شود؟

۱. نقطه ی تولید جامعه به منحنی بی تفاوتی بالاتر منتقل می شود.
۲. نقطه ی مصرف جامعه روی منحنی بی تفاوتی جابجا می شود.
۳. نقطه ی تولید جامعه روی منحنی بی تفاوتی جابجا می شود.
۴. نقطه ی مصرف جامعه به منحنی بی تفاوتی بالاتر منتقل می شود.

سری سوال: ۱ یک

زمان آزمون (دقیقه): تستی: ۹۰ تشریحی: ۰

تعداد سوالات: تستی: ۴۰ تشریحی: ۰

عنوان درس: تجارت بین الملل

رشته تحصیلی/کد درس: علوم اقتصادی (اقتصاد نظری)، علوم اقتصادی (نظری) چندبخشی ۱۲۱۸۱۸۱

۸- تأثیر یک تغییر در رابطه مبادله بر درآمد حقیقی، متناسب با کدام گزینه ی زیر است؟

۱. تغییر قیمت از یک سو و حجم اولیه تجارت از سوی دیگر
 ۲. تغییر تقاضا از یک سو و حجم اولیه تجارت از سوی دیگر
 ۳. تغییر قیمت از یک سو و حجم اولیه تولید از سوی دیگر
 ۴. تغییر تقاضا از یک سو و حجم اولیه تولید از سوی دیگر

۹- کدام یک از گزینه های زیر می تواند به «رشد فلاکت بار» منجر شود؟

۱. رشدی که به سمت صنایع صادراتی کشور تمایل داشته باشد.
 ۲. رشدی که به سمت صنایع وارداتی کشور تمایل داشته باشد
 ۳. رشدی که به سمت صنایع غذایی کشور تمایل داشته باشد.
 ۴. رشدی که به سمت صنایع مادر تمایل داشته باشد.

۱۰- زمانی رابطه مبادله به سود کشور منتقل کننده، تغییر می یابد که، مجموع میل نهایی به واردات دو کشور برابر کدام گزینه زیر باشد؟

۱. کمتر از یک باشد. ۲. بیش از یک باشد. ۳. برابر بایک باشد ۴. منفی باشد

۱۱- وقتی دو کشور با هم وارد تجارت شوند، رابطه ی مبادله نهایتاً در کدام گزینه ی زیر برقرار می گردد؟

۱. در نسبت هزینه های نسبی کشور کوچکتر
 ۲. در نسبت هزینه های نسبی کشور بزرگتر
 ۳. در محدوده ی خارج از نسبت هزینه های دو کشور
 ۴. در محدوده ی اواسط نسبت هزینه های دو کشور

۱۲- کدام یک از گزینه های زیر شرط سود رقابتی را مطرح می کند؟

۱. در هر صنعتی، نرخ دستمزد باید بزرگتر از ارزش بهره وری (متوسط یا نهایی) کارگر باشد.
 ۲. در هر صنعتی، نرخ دستمزد باید برابر ارزش بهره وری (متوسط یا نهایی) کارگر باشد
 ۳. نرخ دستمزد باید در هر صنعتی کوچکتر از ارزش بهره وری (متوسط یا نهایی) کارگر باشد
 ۴. در هر صنعتی، نرخ دستمزد می تواند بزرگتر یا کوچکتر از ارزش بهره وری (متوسط یا نهایی) کارگر باشد.

۱۳- کدام یک از گزینه های زیر، در اثر تجارت آزاد (پیشرفت فنی و یا کاهش قیمت های جهانی) ایجاد می شود؟

۱. بیکاری طبیعی
 ۲. بیکاری گذرا
 ۳. بیکاری ساختاری
 ۴. بیکاری ادواری

سری سوال: ۱ یک

زمان آزمون (دقیقه): تستی: ۹۰ تشریحی: ۰

تعداد سوالات: تستی: ۴۰ تشریحی: ۰

عنوان درس: تجارت بین الملل

رشته تحصیلی/کد درس: علوم اقتصادی (اقتصاد نظری)، علوم اقتصادی (نظری) چندبخشی ۱۲۱۸۱۸۱

۱۴- بر اساس کدام یک از گزینه های زیر، دو کشور با مبادله کالا می توانند منفعتی را نصیب خود کنند؟

۱. اگر قیمت نسبی کالاها در غیاب تجارت بین دو کشور متفاوت باشد
۲. اگر قیمت نسبی کالاها در غیاب تجارت بین دو کشور یکسان باشد.
۳. اگر قیمت مطلق کالاها در غیاب تجارت بین دو کشور متفاوت باشد.
۴. اگر قیمت مطلق کالاها در غیاب تجارت بین دو کشور یکسان باشد.

۱۵- افزایش نیروی کار به تنهایی، کدام یک از موارد زیر را به دنبال خواهد داشت؟

۱. کاهش دستمزدها و افزایش بازدهی هر دو عامل سرمایه و زمین
۲. افزایش دستمزدها و کاهش بازدهی هر دو عامل سرمایه و زمین
۳. کاهش دستمزدها و هر دو عامل سرمایه و زمین
۴. افزایش دستمزدها و هر دو عامل سرمایه و زمین

۱۶- کدام یک از گزینه های زیر در خصوص روند بلند مدت تعرفه ها در امریکا درست است (طی دوره ۱۹۲۱ لغایت ۲۰۰۰)؟

۱. روند تعرفه ها نزولی بوده
۲. روند تعرفه ها صعودی بوده
۳. روند تعرفه ها ثابت بوده
۴. روند تعرفه ها نوسانی بوده

۱۷- اگر انحصارگر بتواند سیاست دامپینگ و تبعیض قیمت بین بازارهای داخلی و خارجی برقرار کند، کدام گزینه زیر درست خواهد بود؟

۱. میزان فروش انحصارگر کاهش می یابد.
۲. میزان فروش انحصارگر افزایش می یابد.
۳. قیمت جهانی و داخلی افزایش می یابد.
۴. قیمت جهانی و داخلی کاهش می یابد.

۱۸- اگر تعرفه توسط کشور بزرگ برقرار شود، کدام یک از گزینه های زیر اتفاق می افتد؟

۱. قیمت نسبی جهانی واردات افزایش می یابد.
۲. قیمت نسبی جهانی واردات کاهش می یابد.
۳. منحنی تقاضای داخلی افزایش می یابد.
۴. منحنی عرضه داخلی کاهش می یابد.

۱۹- MNE ها با هدف کدام یک از گزینه های زیر دست به سرمایه گذاری در خارج می زند؟

۱. افزایش درآمد
۲. افزایش فروش
۳. افزایش سود
۴. افزایش سرمایه

سری سوال: ۱ یک

زمان آزمون (دقیقه): تستی: ۹۰ تشریحی: ۰

تعداد سوالات: تستی: ۴۰ تشریحی: ۰

عنوان درس: تجارت بین الملل

رشته تحصیلی/کد درس: علوم اقتصادی (اقتصاد نظری)، علوم اقتصادی (نظری) چندبخشی ۱۲۱۸۱۸۱

۲۰- بر اساس قضیه هکس - اوهلین برای کشور پر سرمایه کدام یک از گزینه های زیر صدق می کند؟

$$.۴ \quad \frac{K_x}{L_m} > \frac{K_m}{L_x}$$

$$.۳ \quad \frac{K_x}{L_x} > \frac{K_m}{L_m}$$

$$.۲ \quad \frac{K_x}{L_m} < \frac{K_m}{L_x}$$

$$.۱ \quad \frac{K_x}{L_x} < \frac{K_m}{L_m}$$

۲۱- هر اقدامی که از سوی یک کشور باعث بالا رفتن سطح رفاهش بیش از سطح تجارت آزاد شود، چه تغییری در کشور دیگر ایجاد می کند؟

۰۲. لزوماً باید به نفع کشور دیگر تمام شود.

۰۱. لزوماً باید به زیان کشور دیگر تمام شود

۰۴. نامعلوم است.

۰۳. تغییری در کشور دیگر ایجاد نمی کند

۲۲- یک افزایش در عرضه زمین، کدام یک از گزینه های زیر را به دنبال خواهد داشت؟

۰۲. کاهش دستمزد و تخصیص کمتر نیروی کار در بخش غذا

۰۱. کاهش دستمزد و تخصیص نیروی کار در بخش لباس

۰۴. افزایش دستمزد و تخصیص بیشتر نیروی کار در بخش غذا

۰۳. افزایش دستمزد و تخصیص نیروی کار در بخش لباس

۲۳- کدام یک از گزینه های زیر به بیماری هلندی معروف است؟

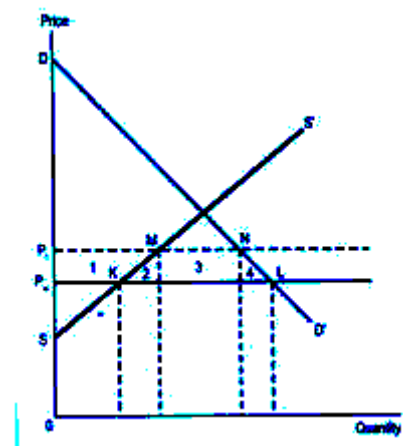
۰۱. یک وضعیت پر رونق در یک بخش جدید صادراتی که موجب بالا رفتن دستمزد و هزینه تولید در سایر بخش ها می شود.

۰۲. یک وضعیت پر رونق در یک بخش وارداتی که موجب بالا رفتن دستمزد و هزینه تولید در سایر بخش ها می شود.

۰۳. افزایش قیمت کالاهای صادراتی و کاهش قیمت وارداتی.

۰۴. افزایش قیمت کالاهای مبادله ای و کاهش قیمت کالاهای غیر مبادله ای.

۲۴- با توجه به نمودار با برقراری تعرفه بر یک کالا رفاه جامعه طبق کدام گزینه زیر تغییر خواهد کرد؟



۰۲. با اندازه نواحی ۲ و ۴ کاهش می یابد.

۰۱. با اندازه نواحی ۲ و ۴ افزایش می یابد.

۰۴. با اندازه ناحیه ۳ کاهش می یابد.

۰۳. با اندازه ناحیه ۳ افزایش می یابد.

سری سوال: ۱ یک

زمان آزمون (دقیقه): ۹۰ تشریحی: ۰

تعداد سوالات: تستی: ۴۰ تشریحی: ۰

عنوان درس: تجارت بین الملل

رشته تحصیلی/کد درس: علوم اقتصادی (اقتصاد نظری)، علوم اقتصادی (نظری) چندبخشی ۱۳۱۸۱۸۱

۲۵- محل برخورد دو منحنی ارزش تولید نهایی کارگر در دو بخش (VMP_L^F و VMP_L^C) کدام یک از گزینه های زیر را تعیین می کند؟

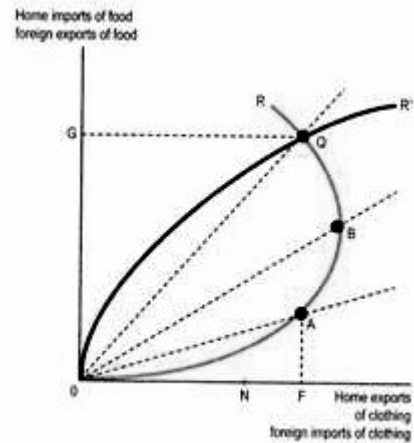
۰۲. دستمزدهای تعادلی و تخصیص نیروی کار

۰۱. قیمت کالا و تخصیص نیروی کار

۰۴. دستمزد و قیمت های نسبی

۰۳. دستمزدهای تعادلی و قیمت کالا

۲۶- کدام از گزینه های زیر، تعادل تجارت آزاد را نشان می دهد؟



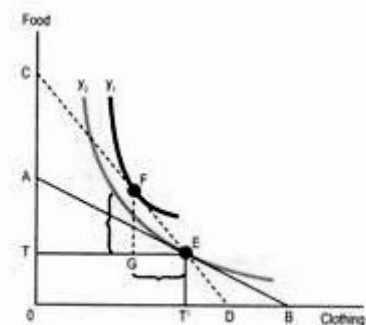
۰۴. هر سه نقطه

۰۳. نقطه Q

۰۲. نقطه B

۰۱. نقطه A

۲۷- با توجه به نمودار برای کشور داخلی صادرات و واردات بعد از آزادی تجاری کدام گزینه زیر است؟



۰۲. صادرات GE و واردات FG

۰۱. صادرات GE و واردات TD

۰۴. واردات GE و صادرات FG

۰۳. واردات GE و صادرات TD


سری سوال: ۱ یک

زمان آزمون (دقیقه): تستی: ۹۰ تشریحی: ۰

تعداد سوالات: تستی: ۴۰ تشریحی: ۰

عنوان درس: تجارت بین الملل

رشته تحصیلی/کد درس: علوم اقتصادی (اقتصاد نظری)، علوم اقتصادی (نظری) چندبخشی ۱۲۱۸۱۸۱

۲۸- با توجه به نمودار، با توزیع مجدد از هر نقطه ای مانند E کدام یک از گزینه های زیر امکان پذیر است؟

۰۲ وضعیت هر دو کشور بهتر شود.

۰۱ وضعیت هر دو کشور بدتر شود.

۰۴ نقطه E ، نقطه پایدار است.۰۳ نقاطی مانند E غیر ممکن است.

۲۹- آزادسازی تجاری، عاملی که به وفور در کشور وجود دارد، را ... و عاملی که به طور نسبی کمیاب است، ... خواهد ساخت.

۰۴ متضرر- منافع

۰۳ متضرر- متضرر

۰۲ منافع - منافع

۰۱ منافع - متضرر

۳۰- طبق الگوی هکشر-اوهلین، برای دو کشور که تکنولوژی همانند و انعطاف پذیری داشته و هر دو عامل سرمایه و کارگران نیز در اشتغال کامل هستند، می توان گفت که:

۰۱ کشوری که از وفور نسبی کارگر برخوردار است به طور نسبی مقدار بیشتری کالای کاربر تولید می کند.

۰۲ کشوری که از وفور نسبی کارگر برخوردار است، فقط کالای کاربر تولید می کند.

۰۳ کشور داخلی با وفور نسبی کارگر، کالایی که به طور نسبی کاربر است را وارد می کند.

۰۴ کشور خارجی با وفور نسبی کارگر، کالایی که به طور نسبی کاربر است را وارد می کند.

۳۱- کشوری که از وفور نسبی کارگر برخوردار است، به طور نسبی به تولید کالاهایی می پردازد که :

۰۲ سرمایه بر باشد.

۰۱ کاربر باشد.

۰۴ از تکنولوژی خنثی برخوردار باشد.

۰۳ کمیاب باشد.

۳۲- اگر منحنیهای هم مقداری تولید، «هموتتیک» باشند، بازگوکننده ی کدام یک از گزینه های زیر است؟

۰۲ حاکم بودن بازدهی فزاینده نسبت به مقیاس در امر تولید

۰۱ حاکم بودن بازدهی کاهنده نسبت به مقیاس در امر تولید

۰۴ حاکم بودن بازدهی متفاوت نسبت به مقیاس در امر تولید

۰۳ حاکم بودن بازدهی ثابت نسبت به مقیاس در امر تولید

سری سوال: ۱ یک

زمان آزمون (دقیقه): تستی: ۹۰ تشریحی: ۰

تعداد سوالات: تستی: ۴۰ تشریحی: ۰

عنوان درس: تجارت بین الملل

رشته تحصیلی/کد درس: علوم اقتصادی (اقتصاد نظری)، علوم اقتصادی (نظری) چندبخشی ۱۲۱۸۱۸۱

۳۳- بر اساس الگوی هکشر - اوهلین، با برقراری تجارت آزاد و گسترش تولید پوشاک (کالای کار بر)، چه تغییراتی در دستمزدها و اجاره ها در کشور خارجی ایجاد می شود؟

- ۰۱ کاهش دستمزدها و اجاره ها
 ۰۲ کاهش دستمزدها و افزایش اجاره ها
 ۰۳ افزایش دستمزدها و اجاره ها
 ۰۴ افزایش دستمزدها و کاهش اجاره ها

۳۴- طبق قضیه ی استولپر - ساموئلسون، هرگونه مداخله در تجارت آزاد که باعث بالا بردن قیمت داخلی واردات می گردد، کدام گزینه زیر را بدنبال خواهد داشت؟

- ۰۱ ممکن است عامل تولیدی که به طور نسبی بیشتر در تولید کالای جایگزین واردات مصرف می شود را منتفع کند.
 ۰۲ بدون تردید عامل تولیدی که به طور نسبی بیشتر در تولید کالای جایگزین واردات مصرف می شود را منتفع خواهد ساخت.
 ۰۳ بدون تردید عامل تولیدی که به طور نسبی بیشتر در تولید کالای جایگزین واردات مصرف می شود را متضرر خواهد ساخت.
 ۰۴ ممکن است عامل تولیدی که به طور نسبی بیشتر در تولید کالای جایگزین واردات مصرف می شود را متضرر کند.

۳۵- در مدل هکشر - اوهلین، هر دو عامل سرمایه و کارگر متحرک هستند و تغییر در قیمت کالاها کدام گزینه زیر را ایجاد می کند؟

- ۰۱ اثری تشدید شده بردستمزدها و اجاره ها
 ۰۲ اثری تشدید شده بر اجاره ها
 ۰۳ اثری نسبی بر دستمزدها و اجاره ها
 ۰۴ اثری نسبی بر دستمزدها

۳۶- تجارت آزاد، کشورها را به کدام یک از گزینه های زیر سوق می دهد؟

- ۰۱ فعالیتهای تولیدیشان را منحصراً بر روی تعداد زیادی از کالاهای غیر قابل مبادله متمرکز کنند
 ۰۲ فعالیتهای تولیدیشان را منحصراً بر روی تعداد زیادی از کالاهای قابل مبادله متمرکز کنند.
 ۰۳ فعالیتهای تولیدیشان را منحصراً بر روی تعداد اندکی از کالاهای قابل مبادله متمرکز کنند.
 ۰۴ فعالیتهای تولیدیشان را منحصراً بر روی تعداد اندکی از کالاهای قابل مبادله متمرکز نکنند.

۳۷- جهت گیری تولید که از تفاوت بر خورداری نسبی کشورها از عوامل تولید ناشی می شود، کدام یک از گزینه های زیر را مشخص می کند؟

- ۰۱ سرعت تجارت بین صنایع
 ۰۲ وسعت تجارت بین صنایع
 ۰۳ سرعت تجارت درون صنایع
 ۰۴ وسعت تجارت درون صنایع

سری سوال: ۱ یک

زمان آزمون (دقیقه): تستی: ۹۰ تشریحی: ۰

تعداد سوالات: تستی: ۴۰ تشریحی: ۰

عنوان درس: تجارت بین الملل

رشته تحصیلی/کد درس: علوم اقتصادی (اقتصاد نظری)، علوم اقتصادی (نظری) چندبخشی ۱۲۱۸۱۸۱

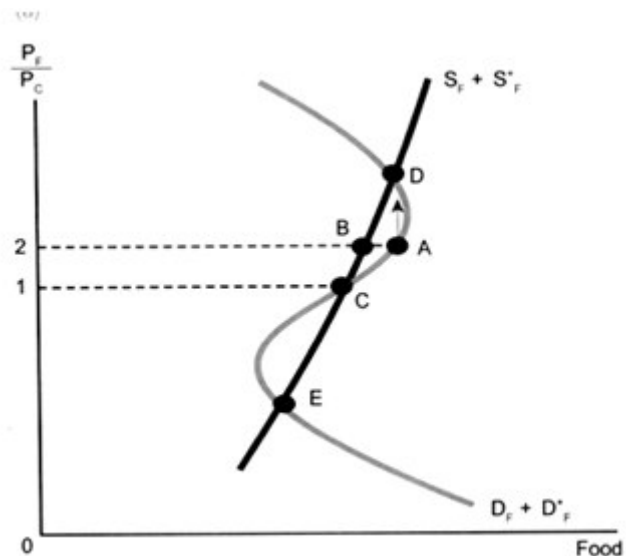
۳۸- کدام یک از گزینه های زیر، مفهوم برون سپاری را می رساند؟

۱. صدورعامل تولیدی که کشور از وفور نسبی برخوردار است.
۲. صدور سرمایه ی فیزیکی جهت تولید کالای مصرفی در داخل کشور
۳. کالایی که قبلاً در داخل تولید می شده، حال در خارج تولید می شود.
۴. مصرف بیشتر کالاهای وارداتی که به کاهش درآمد منجرشود.

۳۹- کدام یک از کشورهای زیر کشورهای تازه صنعتی شده آسیایی (NICs) هستند؟

۱. سنگاپور، هنگ کنگ، تایوان و مالزی
۲. سنگاپور، هنگ کنگ، تایوان و کره
۳. مالزی، اندونزی، فیلیپین و تایلند
۴. سنگاپور، اندونزی، تایوان و کره

۴۰- با توجه به نمودار کدام یک از گزینه های زیر تعادل پایدار است ؟



۴. نقطه E

۳. نقطه C

۲. نقطه B

۱. نقطه A