

تعداد سوالات: تستی: ۴۰ تشریحی: ۰

زمان آزمون (دقیقه): تستی: ۹۰ تشریحی: ۰

سری سوال: یک ۱

**عنوان درس:** مالیه عمومی (اقتصادبخش عمومی)، مالیه عمومی و تنظیم ختمشی مالی دولت، مالیه عمومی و ختمشی مالی دولتها  
**رشته تحصیلی/کد درس:** حسابداری ۱۲۱۸۰۹۰ - مدیریت دولتی ۱۲۲۱۰۰۸ - حسابداری (چندبخشی)، علوم اقتصادی (نظری) چندبخشی، مدیریت دولتی (چندبخشی)، مدیریت بازرگانی (چندبخشی)، مدیریت صنعتی (چندبخشی)، مدیریت جهانگردی (چندبخشی) (۱۲۲۱۰۳۴)

استفاده از ماشین حساب ساده مجاز است

۱- بر اساس نظریه کلاسیک اولیه در صورت وجود شرایط لازم برای رقابت، مکانیزم بازار خود مسئله کارآیی ...

۱. و تخصیص بهینه منابع را حل خواهد نمود.

۲. را حل خواهد نمود و نیازی به وجود دخالت دولت نمی باشد.

۳. و تخصیص بهینه منابع را با وجود دخالت دولت حل خواهد نمود.

۴. و مشکل وجود دخالت دولت را حل خواهد نمود.

۲- دولت مورد نظر کلاسیک ها برای انجام سه گروه از وظایف محوله، از چه طریقی هزینه مورد نیاز را تأمین می کند؟

۱. فروش صنایع و گسترش بنگاهها

۲. برقراری مالیاتها

۳. واگذاری انحصارات

۴. برقراری مالیات بر منابع ملی

۳- هزینه های تمام شدنی ادعای است برای منابع

۱. انسانی

۲. غیراقتصادی

۳. اقتصادی

۴. فیزیکی

۴- با توجه به داده های فرضی جدول، جهت گیری هزینه های دولت به طور نسبی به سمت رشد بیشتر کدام هزینه بوده است؟

سال هزینه	۱۳۶۰	۱۳۶۱	۱۳۶۲	۱۳۶۳	۱۳۶۴	۱۳۶۵
تمام شدنی	۱۳۰۰	۱۴۰۰	۱۵۵۰	۱۶۶۵	۱۷۷۵	۱۸۸۵
انتقالی	۵۵۵	۶۵۵	۷۷۵	۸۹۵	۱۰۲۰	۱۱۴۵

۱. تا سال ۱۳۶۳ هزینه های انتقالی و سپس تمام شدنی

۲. تمام شدنی

۳. تا سال ۱۳۶۳ تمام شدنی و سپس انتقالی

۴. انتقالی

۵- در یک تحلیل زمانی از اندازه دولت، می توان گفت حداقل از زمان کلاسیک ها تا ابتدا ده ۹۰ میلادی:

۱. دولت در کشورهای در حال توسعه به سمت پذیرش نقش بیشتر در اقتصاد حرکت کرده است.

۲. دولت در کشورهای صنعتی به سمت پذیرش نقش بیشتر در اقتصاد حرکت کرده است.

۳. دولت در بیشتر کشورهای جهان به سمت پذیرش نقش بیشتر در اقتصاد حرکت کرده است.

۴. دولت در اکثر کشورهای صنعتی به سمت کاهش نقش خود در اقتصاد حرکت کرده است.

تعداد سوالات: تستی: ۴۰ تشریحی: ۰

زمان آزمون (دقیقه): تستی: ۹۰ تشریحی: ۰

سری سوال: ۱ یک

عنوان درس: مالیه عمومی (اقتصادبخش عمومی)، مالیه عمومی و تنظیم ختمشی مالی دولت، مالیه عمومی و ختمشی مالی دولتها

رشته تحصیلی/کد درس: حسابداری ۱۲۱۸۰۹۰ - مدیریت دولتی ۱۲۲۱۰۰۸ - حسابداری (چندبخشی)، علوم اقتصادی (نظری) چندبخشی، مدیریت دولتی (چندبخشی)، مدیریت بازرگانی (چندبخشی)، مدیریت صنعتی (چندبخشی)، مدیریت جهانگردی (چندبخشی) ۱۲۲۱۰۳۴

۶-

بر اساس الگوی ماسگریو و رستو کدام گزینه برای مرحله اول رشد و توسعه در مورد نسبت  $\frac{I_g}{I}$  درست است؟

۱. از ۱۰٪ به ۱۹٪ به ۱۴٪ به ۱۷٪ به ۱۶٪ می رسد  
۲. از ۱۲٪ به ۱۷٪ به ۱۹٪ به ۲۴٪ به ۳۰٪ می رسد  
۳. از ۱۵٪ به ۱۷٪ به ۲۵٪ به ۲۱٪ به ۱۶٪ می رسد  
۴. از ۱۰٪ به ۱۱٪ به ۱۹٪ به ۱۷٪ به ۱۴٪ می رسد

۷- بر اساس نظریه واگنر در یک اقتصاد، اندازه نسبی دولت افزایش خواهد یافت چنانچه:

۱. درآمد سرانه افزایش داشته باشد.  
۲. تولید ناخالص ملی سالانه ۲٪ افزایش داشته باشد.  
۳. تولید ملی با نرخ ثابت ۲٪ رشد داشته باشد.  
۴. نرخ رشد تولید ملی از نرخ رشد جمعیت کمتر باشد.

۸- یکی از شرایط عمده برای عملکرد بازار رقابتی با قبول شرایط خاص برای توابع مطلوبیت و تولید کدام گزینه است؟

۱. عدم وجود اطلاعات کامل از شرایط بازار  
۲. متفاوت بودن کالاها که به وسیله تولیدکنندگان به بازار عرضه می شوند.  
۳. یکسان بودن کالاها که به وسیله تولیدکنندگان به بازار عرضه می شوند.  
۴. عدم وجود مصرف کنندگان کافی در بازار.

۹- در شرایط نبود پی آمدهای خارجی ...

۱. قیمت گذاری بر اساس هزینه متوسط تولید، متوسط رفاه را ایجاد می کند.  
۲. قیمت گذاری بر اساس هزینه متوسط تولید، حداکثر رفاه را ایجاد می کند.  
۳. قیمت گذاری بر اساس هزینه نهایی تولید، حداکثر رفاه را ایجاد می کند.  
۴. قیمت گذاری بر اساس هزینه نهایی تولید، متوسط رفاه را ایجاد می کند.

۱۰- در صورت پی آمد خارجی غیراقتصادی، چنانچه دولت با دخالت خود، هدف داخلی کردن هزینه خارجی برای بنگاه را دنبال کند، کدام گزینه یکی از طرقی است که دولت می تواند به این هدف دست یابد؟

۱. برقراری مالیات برابر هزینه نهایی خارجی  
۲. برقراری مالیات برابر فایده نهایی خارجی  
۳. پرداخت خسارت به زیان دیده توسط دولت  
۴. جلوگیری از تغییر تکنیک تولید

تعداد سوالات: تستی: ۴۰ تشریحی: ۰

زمان آزمون (دقیقه): تستی: ۹۰ تشریحی: ۰

سری سوال: ۱ یک

عنوان درس: مالیه عمومی (اقتصادبخش عمومی)، مالیه عمومی و تنظیم ختمشی مالی دولت، مالیه عمومی و ختمشی مالی دولتها

رشته تحصیلی/گد درس: حسابداری ۱۲۱۸۰۹۰ - مدیریت دولتی ۱۲۲۱۰۰۸ - حسابداری (چندبخشی)، علوم اقتصادی (نظری) چندبخشی، مدیریت دولتی (چندبخشی)، مدیریت بازرگانی (چندبخشی)، مدیریت صنعتی (چندبخشی)، مدیریت جهانگردی (چندبخشی) ۱۲۲۱۰۳۴

۱۱- در صورت وجود پی آمد خارجی اقتصادی کدام گزینه نشان دهنده عدم کارآمدی سطح تولید است؟

۱. فایده نهایی خارجی + فایده نهایی داخلی < هزینه نهایی
۲. فایده نهایی خارجی + فایده نهایی داخلی > هزینه نهایی
۳. فایده نهایی خارجی + فایده نهایی داخلی = هزینه نهایی
۴. هزینه نهایی داخلی + فایده نهایی خارجی < فایده نهایی داخلی

۱۲- با توجه به جدول کدام گزینه به ویژگی گروه کالاها اشاره دارد؟

	قابل تخصیص منافع	غیر قابل تخصیص منافع
رقابت پذیر	A	U
غیر قابل رقابت	B	P

۱. P گروه کالاهای عمومی ناخالص
۲. P گروه کالاهای عمومی خالص
۳. B گروه کالاهای خصوصی
۴. U گروه کالاهای خصوصی ناخالص

۱۳- در بحث کالاهای عمومی و سواری مجانی گفته می شود:

۱. اضافه شدن یک استفاده کننده دیگر، هزینه جدیدی ایجاد نخواهد شد.
۲. اضافه شدن یک استفاده کننده دیگر، هزینه جدیدی ایجاد خواهد شد.
۳. هزینه نهایی استفاده از کالاهای عمومی خالص بزرگتر از صفر است.
۴. هزینه نهایی استفاده از کالاهای خصوصی خالص برابر صفر است.

۱۴- بر اساس نظر ساموئلسون چگونه می توان به سطح تولید کارآمد برای کالاهای عمومی دست یافت:

۱. از برابر قرار دادن مجموع هزینه ها و فایده نهایی داخلی
۲. از برابر قرار دادن مجموع فواید نهایی و هزینه نهایی تولید
۳. از جمع عمودی منحنی های تقاضای افراد برای کالای عمومی
۴. از جمع افقی منحنی های تقاضای افراد برای کالای عمومی

۱۵- خانوارها درآمد خود را از سه منبع و جریان عمده به دست می آورند. کدام گزینه از این سه منبع محسوب نمی

شود؟

۱. دارایی ها و اموال
۲. دستمزد و حقوق
۳. تفاوت درآمدی و طراحان کامپیوتری
۴. دولت

تعداد سوالات: تستی: ۴۰ تشریحی: ۰

زمان آزمون (دقیقه): تستی: ۹۰ تشریحی: ۰

سری سوال: ۱ یک

عنوان درس: مالیه عمومی (اقتصادبخش عمومی)، مالیه عمومی و تنظیم ختمشی مالی دولت، مالیه عمومی و ختمشی مالی دولتها

رشته تحصیلی/گد درس: حسابداری ۱۲۱۸۰۹۰ - مدیریت دولتی ۱۲۲۱۰۰۸ - حسابداری (چندبخشی)، علوم اقتصادی (نظری) چندبخشی، مدیریت دولتی (چندبخشی)، مدیریت بازرگانی (چندبخشی)، مدیریت صنعتی (چندبخشی)، مدیریت جهانگردی (چندبخشی) ۱۲۲۱۰۳۴

### ۱۶- کدام گزینه صحیح است؟

۱. هر چقدر منحنی لورنز بیشتر نسبت به محور افقی محدب باشد توزیع درآمد نابرابرتر است.
۲. هر چقدر منحنی لورنز کمتر نسبت به محور افقی محدب باشد توزیع درآمد نابرابرتر است.
۳. هر چقدر منحنی لورنز کمتر نسبت به محور افقی محدب باشد ضریب جینی به عدد یک نزدیکتر است.
۴. هر چقدر منحنی لورنز بیشتر نسبت به محور افقی محدب باشد ضریب جینی به عدد صفر نزدیکتر است.

### ۱۷- بوکنن با مطالعات خود نشان داد انتقال سوبسید به فقرا ...

۱. سبب افزایش فراغت و استراحت بسیار زیاد آنها می شود.
۲. عاملی است برای کاهش میزان کار آنها.
۳. امکان مهارت افزایی آنها را کاهش می دهد.
۴. نمی تواند الزاماً عامل کاهش کار آنها باشد.

### ۱۸- دیدگاه مطلوبیون در توزیع مجدد درآمد (توزیع عادلانه درآمد) بیانی از کدام گزینه است؟

۱. در شرایط نزولی بودن مطلوبیت نهایی و وقتی توابع مطلوبیت یکسان هستند، مطلوبیت نهایی یک واحد اضافی برای یک فرد ثروتمند از یک فرد فقیر بیشتر است.
۲. یک واحد درآمد اضافی برای یک فقیر ارزشی کمتر از یک واحد درآمد بیشتر برای ثروتمند دارد.
۳. در شرایط نزولی بودن مطلوبیت نهایی و وقتی توابع مطلوبیت یکسان هستند، مطلوبیت نهایی یک واحد اضافی برای یک فرد فقیر و یک فرد ثروتمند برابر است.
۴. یک واحد درآمد اضافی برای یک ثروتمند ارزشی کمتر از یک واحد درآمد بیشتر برای فقیر دارد.

### ۱۹- کدام گزینه از حمایت های سازمان تأمین اجتماعی محسوب نمی شود؟

۱. حمایت های درمانی
۲. طرح شهید رجایی
۳. حمایت های کوتاه مدت
۴. حمایت های بلندمدت

### ۲۰- تمام مالیاتها شامل دو جزء هستند که عبارتند از:

۱. معیار و نرخ. معیار نسبتی از ارزش مالیاتی است.
۲. پایه و نرخ. نرخ معیاری است که مالیات بر آن برقرار می شود.
۳. ارزش و نرخ. نرخ نسبتی از ارزش مالیاتی است.
۴. پایه و نرخ. پایه معیاری است که مالیات بر آن برقرار می شود.

تعداد سوالات: تستی: ۴۰ تشریحی: ۰

زمان آزمون (دقیقه): تستی: ۹۰ تشریحی: ۰

سری سوال: ۱ یک

عنوان درس: مالیه عمومی (اقتصادبخش عمومی)، مالیه عمومی و تنظیم ختمشی مالی دولت، مالیه عمومی و ختمشی مالی دولتها

رشته تحصیلی/کد درس: حسابداری ۱۲۱۸۰۹۰ - مدیریت دولتی ۱۲۲۱۰۰۸ - حسابداری (چندبخشی)، علوم اقتصادی (نظری) چندبخشی، مدیریت دولتی (چندبخشی)، مدیریت بازرگانی (چندبخشی)، مدیریت صنعتی (چندبخشی)، مدیریت جهانگردی (چندبخشی) ۱۲۲۱۰۳۴

۲۱- فرض کنید بر اساس قانون مالیات بر درآمد، درآمد تا  $4/000/000$  ریال معاف از مالیات است و به درآمد مزاد بر  $4/000/000$  ریال تا  $10/000/000$  ریال نرخ مالیات ۱۰٪ و از  $10/000/000$  تا  $20/000/000$  ریال نرخ مالیات ۲۰٪ و از  $20/000/000$  ریال به بالا نرخ مالیات ۴۰٪ تعلق میگیرد. برای فردی که  $44/000/000$  ریال درآمد دارد نرخ نهایی و نرخ متوسط مالیات کدام گزینه است؟

۱. نرخ نهایی ۴۰٪ و نرخ متوسط ۳۵٪
۲. نرخ نهایی ۴۰٪ و نرخ متوسط ۲۷٪
۳. نرخ نهایی ۳۵٪ و نرخ متوسط ۲۰٪
۴. نرخ نهایی ۳۵٪ و نرخ متوسط ۲۴٪

۲۲- مالیات مبتنی بر اصل فایده

۱. نمی تواند در توزیع مجدد درآمد نقش داشته باشد.
۲. می تواند در توزیع مجدد درآمد نقش داشته باشد
۳. به تمام آحاد مردم فایده می رساند.
۴. به صورت برابری افقی به مقدار بیشتری در توزیع درآمد نقش دارد.

۲۳- توماس هابز معتقد بود که مردم باید بر اساس ..

۱. آنچه تقاضا می شود مالیات بدهند نه عرضه بنگاهها
۲. میزان درآمدشان مالیات بدهند نه با توجه به مصرفشان
۳. آنچه عرضه می شود مالیات بدهند نه تقاضایشان
۴. آنچه مصرف می کنند مالیات بدهند نه با توجه به درآمدشان

۲۴- کدام گزینه بار مالیاتی (وقوع مالیاتی) را تعیین می کند؟

۱. تغییرات در عرضه
۲. تغییرات نهایی
۳. تغییرات در تقاضا
۴. تغییرات در رفاه بعضی از خانوارها

۲۵- در تحلیل های جزئی از مکانیزم قیمت ها به منظور بررسی تأثیر مالیات ...

۱. سایر بازارهای دیگر نیز که مالیات در آن برقرار نشده است، با تحلیل جزئی مورد مطالعه قرار می گیرند.
۲. سایر بازارهای دیگر نیز که مالیات در آن برقرار نشده است، مورد مطالعه قرار می گیرند.
۳. فقط بازاری مورد مطالعه قرار میگیرد که مالیات در آن برقرار شده است.
۴. این تحلیل فقط در بازارها و اقتصادهای بسیار بزرگ کاربرد دارد.

تعداد سوالات: تستی: ۴۰ تشریحی: ۰

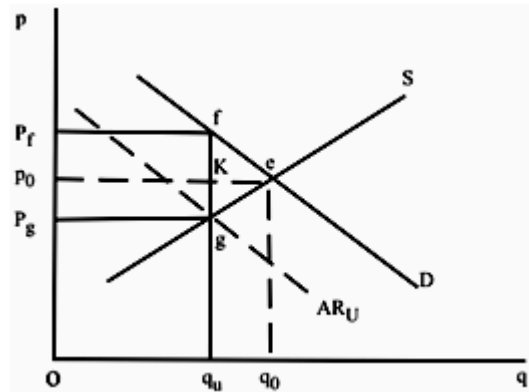
زمان آزمون (دقیقه): تستی: ۹۰ تشریحی: ۰

سری سوال: ۱ یک

عنوان درس: مالیه عمومی (اقتصادبخش عمومی)، مالیه عمومی و تنظیم ختمشی مالی دولت، مالیه عمومی و ختمشی مالی دولتها

رشته تحصیلی/گد درس: حسابداری ۱۳۱۸۰۹۰ - مدیریت دولتی ۱۳۲۱۰۰۸ - حسابداری (چندبخشی)، علوم اقتصادی (نظری) چندبخشی، مدیریت دولتی (چندبخشی)، مدیریت بازرگانی (چندبخشی)، مدیریت صنعتی (چندبخشی)، مدیریت جهانگردی (چندبخشی) ۱۳۲۱۰۳۴

۲۶- با توجه به شکل کدام گزینه قیمت مصرف کننده و سهم مالیات مصرف کننده را پس از برقراری مالیات نشان می دهد؟



۲.  $P_f, P_g, f, e$  و  $P_f$

۱.  $P_g, P, K, g$  و  $P_g$

۴.  $P_g, P, e, g$  و  $P_g$

۳.  $P, P_f, f, K$  و  $P_f$

۲۷- چنانچه پس از برقراری مالیات بر واحد (کالای X)، قیمت برای مصرف کننده دقیقاً به اندازه مالیات بر واحد (u) افزایش یابد، منحنی عرضه برای کالای X

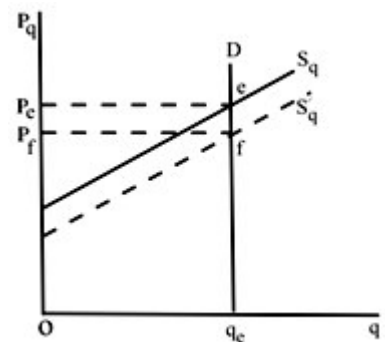
۲. کاملاً بدون کشش است.

۱. کاملاً کشش پذیر است.

۴. با کشش بزرگتر از واحد است.

۳. با کشش واحد است.

۲۸- با توجه به شکل کدام گزینه قیمت دریافتی عرضه کننده و سهم سوبسید عرضه کننده را پس از برقراری سوبسید نشان میدهد؟



۲.  $P_f$ ، سهم سوبسید صفر

۱.  $P_f, P_e, e, f$ ، سهم سوبسید

۴.  $P_e, P_f, e, f$ ، سهم سوبسید

۳.  $P_e$  و سهم سوبسید صفر

تعداد سوالات: تستی: ۴۰ تشریحی: ۰

زمان آزمون (دقیقه): تستی: ۹۰ تشریحی: ۰

سری سوال: ۱ یک

عنوان درس: مالیه عمومی (اقتصادبخش عمومی)، مالیه عمومی و تنظیم ختمشی مالی دولت، مالیه عمومی و ختمشی مالی دولتها

رشته تحصیلی/گد درس: حسابداری ۱۳۱۸۰۹۰ - مدیریت دولتی ۱۳۲۱۰۰۸ - حسابداری (چندبخشی)، علوم اقتصادی (نظری) چندبخشی، مدیریت دولتی (چندبخشی)، مدیریت بازرگانی (چندبخشی)، مدیریت صنعتی (چندبخشی)، مدیریت جهانگردی (چندبخشی) ۱۳۲۱۰۳۴

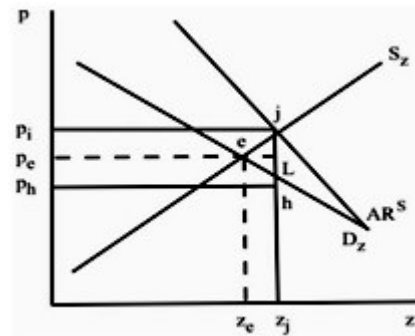
۲۹- معمولاً مالیات و سوبسید در بازار رقابتی ...

۱. تأثیری بر اثرات سیاست های توزیع درآمد ندارد.
۲. تخصیص مؤثر و کارآمد منابع را به دنبال دارد.
۳. جابه جایی منابع بهوجود نمی آورد.
۴. تخصیص غیر مؤثر منابع را به دنبال دارد.

۳۰- در مالیات بر قیمت فروش نرخ مالیاتی

۱. برای شرایط تعادل ثابت است.
۲. تغییر می کند.
۳. برای هر قیمتی تغییر می کند.
۴. ثابت است.

۳۱- با توجه به شکل پس از برقراری سوبسید بر قیمت فروش، قیمت دریافتی عرضه کننده و قیمت پرداختی مصرف کننده در بازار رقابتی کدام گزینه است؟



۱.  $P_e$  قیمت عرضه کننده،  $P_i$  قیمت مصرف کننده
۲.  $P_h$  قیمت عرضه کننده،  $P_i$  قیمت مصرف کننده
۳.  $P_e$  قیمت عرضه کننده و قیمت مصرف کننده
۴.  $P_i$  قیمت عرضه کننده،  $P_h$  قیمت مصرف کننده

۳۲- برقراری مالیات بر قیمت در بازارهای انحصاری می تواند:

۱. سطح تولید را تا سطح تولید بازار رقابتی افزایش دهد.
۲. اثر عدم کارایی بیشتری نسبت به مالیات بر واحد داشته باشد.
۳. اثر عدم کارایی کمتری نسبت به مالیات بر واحد داشته باشد.
۴. سطح تولید را افزایش دهد.

۳۳- با فرض تابع مطلوبیتی به صورت  $u = u(y, L)$  که  $L$  ساعات فراغت و  $y$  درآمد را نشان دهد می توان نوشت:

$$\frac{\partial u}{\partial y} > 0, \frac{\partial u}{\partial L} > 0 \quad .1 \quad \frac{\partial u}{\partial y} > 0, \frac{\partial u}{\partial L} < 0 \quad .2 \quad \frac{\partial y}{\partial u} > 0, \frac{\partial L}{\partial u} > 0 \quad .3 \quad \frac{\partial y}{\partial u} < 0, \frac{\partial L}{\partial u} > 0 \quad .4$$

تعداد سوالات: تستی: ۴۰ تشریحی: ۰

زمان آزمون (دقیقه): تستی: ۹۰ تشریحی: ۰

سری سوال: ۱ یک

عنوان درس: مالیه عمومی (اقتصادبخش عمومی)، مالیه عمومی و تنظیم ختمشی مالی دولت، مالیه عمومی و ختمشی مالی دولتها  
رشته تحصیلی/کد درس: حسابداری ۱۲۱۸۰۹۰ - مدیریت دولتی ۱۲۲۱۰۰۸ - حسابداری (چندبخشی)، علوم اقتصادی (نظری) چندبخشی، مدیریت دولتی (چندبخشی)، مدیریت بازرگانی (چندبخشی)، مدیریت صنعتی (چندبخشی)، مدیریت جهانگردی (چندبخشی) ۱۲۲۱۰۳۴

۳۴- اگر رابطه سود به صورت  $\Pi - R - WL - \theta rk$  در نظر گرفته شود برای محاسبه سود خالص نرخ واقعی استهلاک ( $\theta$ ) چه مقدار است؟

۱.  $\theta = 1$       ۲.  $\theta > 1$       ۳.  $\theta < 1$       ۴.  $\theta = 0$

۳۵- اگر ماشینی به ارزش ۱/۴۰۰/۰۰۰ ریال خریداری شده باشد و عمر این ماشین ۴ سال در نظر گرفته شود. به روش کسر جمع سالهای عمر سرمایه، استهلاک سالهای سوم و چهارم کدام گزینه است؟

۱. سال سوم = ۴۷۰/۰۰۰ ریال، سال چهارم = ۳۵۰/۰۰۰  
۲. سال سوم = ۴۶۰/۰۰۰ ریال، سال چهارم = ۵۸۰/۰۰۰  
۳. سال سوم = ۳۸۰/۰۰۰ ریال، سال چهارم = ۴۸۰/۰۰۰  
۴. سال سوم = ۲۸۰/۰۰۰ ریال، سال چهارم = ۱۴۰/۰۰۰

۳۶- تعیین میزان بدهی قابل پرداخت کدام گزینه است؟

۱. حواله      ۲. تسجیل      ۳. تشخیص      ۴. تعهد

۳۷- عدم تهاتر درآمدها و هزینه ها در کدام اصل بودجه باید رعایت شود:

۱. شاملیت      ۲. جامعیت      ۳. تعادل      ۴. تفصیل

۳۸- اگر در یک اقتصاد منابع بیکار وجود داشته باشد، افزایش در هزینه های دولت ...

۱. نمی تواند منجر به افزایش در ستاده ها و درآمد ملی شود.  
۲. می تواند منجر به افزایش در ستاده ها و درآمد ملی شود.  
۳. قطعاً منجر به افزایش مالیاتها می شود.  
۴. قطعاً منجر به کاهش در تقاضای کل می شود.

۳۹- زمانی که درآمد ملی برابر ۴۰/۰۰۰ واحد است دولت تصمیم می گیرد مخارج خود را ۹۰۰ واحد افزایش دهد. با فرض اینکه  $MPC = 0/9$  باشد. درآمد ملی پس از افزایش مخارج دولت کدام گزینه است؟

۱. ۴۷۹۰۰ واحد      ۲. ۴۸۱۰۰ واحد      ۳. ۴۰۹۰۰ واحد      ۴. ۴۹۰۰۰ واحد

۴۰- چنانچه دولت در سطح درآمد ملی ۲۰/۰۰۰ واحد تصمیم بگیرد به طور همزمان مخارج خود و مالیات را به میزان ۱۹۰ واحد افزایش دهد پس از اجرای این تصمیم دولت، تغییر در درآمد ملی چه میزان است ( $MPC = 0/75$ )

۱. ۱۹۰ واحد      ۲. ۷۶۰ واحد      ۳. تغییری نمی کند      ۴. ۵/۱۴۲ واحد



تعداد سوالات: تستی: ۴۰ تشریحی: ۰

زمان آزمون (دقیقه): تستی: ۹۰ تشریحی: ۰

سری سوال: ۱ یک

عنوان درس: مالیه عمومی (اقتصادبخش عمومی)، مالیه عمومی و تنظیم ختمشی مالی دولت، مالیه عمومی و ختمشی مالی دولتها

رشته تحصیلی/گد درس: حسابداری ۱۳۱۸۰۹۰ - مدیریت دولتی ۱۳۲۱۰۰۸ - حسابداری (چندبخشی)، علوم اقتصادی (نظری) چندبخشی، مدیریت دولتی

(چندبخشی)، مدیریت بازرگانی (چندبخشی)، مدیریت صنعتی (چندبخشی)، مدیریت جهانگردی (چندبخشی) ۱۳۲۱۰۳۴