



تعداد سوالات: تستی: ۲۰ تشریحی: ۴

زمان آزمون (دقیقه): تستی: ۶۰ تشریحی: ۴۰

سری سوال: یک ۱

عنوان درس: اصول محاسبات شیمی صنعتی

رشته تحصیلی/گد درس: شیمی (کاربردی) ۱۱۱۴۰۶۳

استفاده از ماشین حساب مهندسی مجاز است

۱- ظرفی به حجم ۱۰ لیتر در دمای ۳۰۰K شامل ۲ مول هیدروژن و ۳ مول اکسیژن است در صورتی که رفتار گازها ایده آل باشد

فشار کل بر حسب میلیمتر جیوه کدام است؟ $R=0.082 \text{ L.atm/mol.k}$

۹۳۴۸ .۴

۵۶۰۸ .۳

۸۲۴۱ .۲

۱۸۶۹ .۱

۲- مخلوط گاز زیر تحت شرایط ۱۰۰ درجه سانتی گراد و فشار ۸۰ اتمسفر موجود است. مقدار حجم مولی بر اساس ضریب

تراکم پذیری متوسط و قانون دالتون کدام است؟ $R=82.06 \text{ cm}^3.\text{atm/mol.K}$

ضریب تراکم پذیری	درصد مولی	ترکیبات
۰/۹۹	۲۰	متان
۰/۹۲	۳۵	اتیلن
۱	۴۵	نیتروژن

۳۸۲ .۴

۳۳۲ .۳

۳۷۱ .۲

۹۹/۵ .۱

۳- اگر اتان با ۵۰٪ هوای اضافی در یک موتور بسوزد و ۸۰٪ آن به CO₂ و ۱۰٪ آن به CO و بقیه بدون تبدیل خارج شود، مقدار آب تولیدی کدام است؟

۲۱۰ .۴

۲۷۰ .۳

۲۴۰ .۲

۳۶۰ .۱

۴- کدام قانون در گازها ارتباط مستقیم فشار و دمای مطلق را در شرایط حجم و جرم ثابت نشان می دهد؟

۰۴ بویل

۰۳ آمونتون

۰۲ شارل-گیلوساک

۰۱ آووگادرو

۵- چگالی گاز اکسیژن در دمای ۱۰۰ درجه سانتی گراد و فشار ۹/۰ اتمسفر در مقایسه با هوا در شرایط متعارفی ($1\text{atm}, 0^\circ\text{C}$) کدام است؟

۱/۲۳ .۴

۰/۸۱ .۳

۰/۷۲۷ .۲

۱/۳۷۵ .۱

۶- اگر ۱۰ مول در ساعت اتان (C₂H₆) با ۳۰۰ مول در ساعت هوا به طور کامل بسوزد درصد هوای اضافی کدام است؟

۶۳ .۴

۷۶ .۳

۸۰ .۲

۴۴ .۱



سری سوال: ۱ یک

زمان آزمون (دقیقه): تستی: ۶۰ تشریحی: ۴۰

تعداد سوالات: تستی: ۲۰ تشریحی: ۴

عنوان درس: اصول محاسبات شیمی صنعتی

رشته تحصیلی/گد درس: شیمی (کاربردی) ۱۱۱۴۰۶۳

۷- در یک ستون تقطیر 1000 Kg/hr خوراک متشکل از 50% ماده A و 50% ماده B تفکیک می شود محصول بالای برج پس از عبور از کندانسور محتوی 96% ماده B و مواد خروجی از قسمت پایین برج دارای 95% ماده A است. سرعت جریان بخار ورودی به کندانسور از قسمت بالای برج 750 Kg/hr است. مقدار جریان برگشتی به برج کدام است؟

۵۴۰/۹ .۴

۴۸۹/۱ .۳

۳۰۵/۵ .۲

۲۵۵/۴۹ .۱

۸- کدام وسیله برای اندازه گیری دمای خیلی بالا کاربرد دارد و بر اساس شدت انرژی تشعشع خارج شده از جسم استوار است؟

۴. دماسنج مقاومتی

۳. پیرومتر

۲. ترموکوپل

۱. دماسنج جیوه ای

۹- اگر مقادیر متغیرهای یک فرایند با زمان تغییر نکنند این فرایند،نامیده می شود.

۴. سیستم پیوسته

۳. فرایند پایدار

۲. سیستم نیم پیوسته

۱. فرایند ناپایدار

۱۰- محلولی از آب نمک با 70% وزنی آب وارد خشک کننده ای می شود و در حین فرایند 60% آب اولیه خارج می شود. نمک مرطوب خروجی حاوی چند درصد آب می باشد؟

۴. ۴۸/۲۸

۳. ۴۰

۲. ۵۱/۷۲

۱. ۷۲/۴

۱۱- فشار 560 mmHg معادل چه فشاری بر حسب کیلو پاسکال در سیستم SI می باشد؟

۴. ۵۶/۵۶

۳. ۱۳۷/۴۸

۲. ۱۰۱/۳

۱. ۷۴/۶۴

۱۲- اگر از احتراق 60 گرم اتان با 250 گرم اکسیژن 110 گرم دی اکسید کربن تولید شود درجه تکمیل کدام است؟

۴. ۰/۶۸۷

۳. ۰/۵۴۵

۲. ۰/۷۴۹

۱. ۰/۷۹۳

$$\rho_{H_2O} = 62.4 \frac{lb_m}{ft^3}$$

۱۳- اگر چگالی مایعی $1/5$ باشد جرم ویژه بر حسب $\frac{lb_m}{ft^3}$ کدام است؟

۴. ۴۱/۶

۳. ۹۳/۶

۲. ۱۵۰۰

۱. ۱/۵

۱۴- دمایی که در آن گاز شروع به میعان می کند را چه می نامند؟

۴. درجه داغی

۳. بخار اشباع

۲. نقطه شبنم

۱. نقطه حباب



سری سوال: ۱ یک

زمان آزمون (دقیقه): تستی: ۶۰ تشریحی: ۴۰

تعداد سوالات: تستی: ۲۰ تشریحی: ۴

عنوان درس: اصول محاسبات شیمی صنعتی

رشته تحصیلی/گد درس: شیمی (کاربردی) ۱۱۱۴۰۶۳

۱۵- گاز هلیوم محتوی ۱۵٪ مولی اتیل استات در فشار ۱۰۰kpa است. اگر فشار بخار اتیل استات ۲۰kpa باشد درصد اشباع مطلق کدام است؟

۱. ۷۰/۶ ۲. ۷۵ ۳. ۸۵ ۴. ۶۲

۱۶- در دمای ۲۰۰ درجه سانتی گراد حجم مخصوص بخار مرطوب $0.0875 m^3 / kg$ است کیفیت بخار کدام است؟ (حجم مخصوص مایع و بخار اشباع به ترتیب $0.00125 m^3 / kg$ و $0.135 m^3 / kg$ می باشد).

۱. ۰/۶۷ ۲. ۰/۷۰ ۳. ۰/۳۵ ۴. ۰/۶۵

۱۷- کدام گزینه در مورد خاصیت کیفی صحیح نیست؟

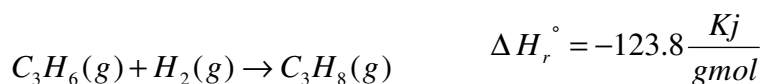
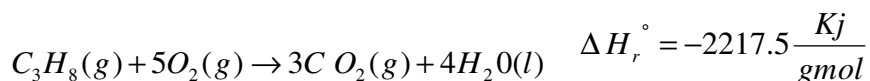
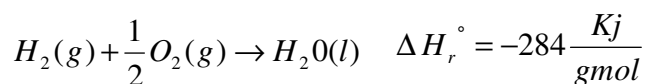
۱. از تقسیم خاصیت کیفی بر جرم خاصیت کمی بدست می آید.
۲. خاصیت کیفی جمع پذیر نیست.
۳. حجم جزء خواص کمی محسوب می شود.
۴. دما و فشار جزء خواص کیفی محسوب می شوند.

۱۸- اگر معادله ظرفیت حرارتی گاز CO₂ به شکل مقابل $C_p = 6.2 + 0.01T - 3.5 \times 10^{-6} T^2$ ، دما بر حسب کلوین و C_p بر

حساب $\frac{cal}{gmol.K}$ باشد مقدار $\Delta \hat{H}$ بین دمای ۲۰۰ و ۳۰۰ کلوین بر حسب $\frac{cal}{gmol}$ کدام است؟

۱. ۷۸۲/۳ ۲. ۸۹۲/۲ ۳. ۸۴۷/۸ ۴. ۷۰۲/۵

۱۹- گرمای استاندارد احتراق پروپیلن با توجه به گرماهای واکنش که در شرایط استاندارد به دست آمده است بر حسب کیلو ژول بر گرم مول کدام است؟



۱. ۲۰۵۷/۳ ۲. -۲۰۵۷/۳ ۳. ۲۶۲۵/۳ ۴. -۲۶۲۵/۳



تعداد سوالات: تستی: ۲۰ تشریحی: ۴

زمان آزمون (دقیقه): تستی: ۶۰ تشریحی: ۴۰

سری سوال: ۱ یک

عنوان درس: اصول محاسبات شیمی صنعتی

رشته تحصیلی/گد درس: شیمی (کاربردی) ۱۱۱۴۰۶۳

۲۰- اطلاعات مربوط به فشار بخار ماده ای در دسترس است. گرمای تبخیر آن جسم در دمای ۲۳۰ درجه سانتی گراد چند ژول بر گرم مول خواهد بود؟

(فرض: گرمای تبخیر در محدوده ای از دما ثابت است.)

$$R = 8.314 \frac{J}{mol.K}$$

$$P^* (atm) \quad T(^{\circ}C)$$

$$5 \quad 217$$

$$10 \quad 250$$

.۴ ۴۴۶۸۸

.۳ ۴۴۲۶۸

.۲ ۴۲۳۵۶

.۱ ۴۵۴۴۲

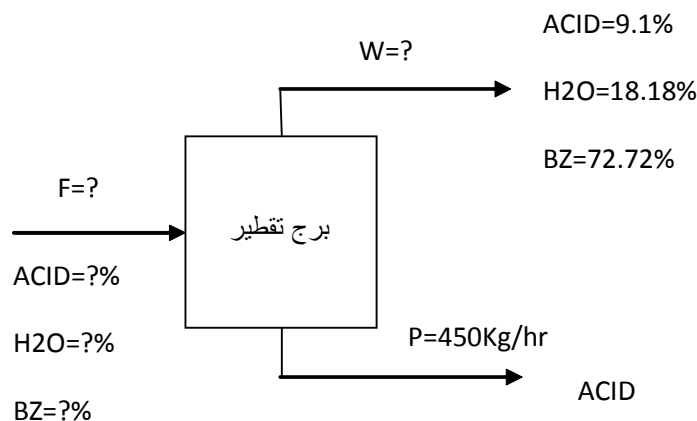
سوالات تشریحی

۱- اگر ظرفیت گرمایی ماده ای مانند آمونیاک در فشار ثابت و در فاصله محدودی از دما با رابطه مقابل داده شود: ۱.۷۵ نمره

$$C_p \left(\frac{Btu}{lb_m \cdot ^{\circ}F} \right) = 0.49 + 2.3 \times 10^{-4} T(^{\circ}F)$$

عبارتی برای C_p بر حسب $\frac{J}{gr \cdot ^{\circ}C}$ و بر حسب دمای $T(^{\circ}C)$ به دست آورید.

۲- به منظور جداسازی اسید استیک، آب و بنزن از یک دستگاه تقطیر استفاده می شود در صورتی که نسبت اسید به آب در جریان ورودی ۵ به ۱ باشد شدت جریان و ترکیب درصد هر یک از ترکیبات را در جریان ورودی تعیین کنید. ۱.۷۵ نمره





تعداد سوالات: تستی: ۲۰ تشریحی: ۴

زمان آزمون (دقیقه): تستی: ۶۰ تشریحی: ۴۰

سری سوال: ۱: یک

عنوان درس: اصول محاسبات شیمی صنعتی

رشته تحصیلی/گد درس: شیمی (کاربردی) ۱۱۱۴۰۶۳

۳- مخلوطی از بنزن و هوا شامل ۹۰ درصد مولی هوا و ۱۰ درصد مولی بنزن در دمای ۳۸ درجه سانتی گراد و فشار ۷۹۰ mmHg است. فشار بخار بنزن از رابطه آنتوان به دست می آید:

$$\log P^* = 6.906 - \frac{1211}{220.8 + T}$$

دما بر حسب درجه سانتی گراد و فشار بر حسب mmHg است.

فشار جزیی بنزن، درصد اشباع نسبی و نقطه شبنم را محاسبه کنید.

۴- اگر ۵۰ مول N₂ در دمای ۱۰- درجه سانتی گراد در یک ظرف ۲/۵ لیتری ذخیره شده باشد فشار داخل ظرف را، در صورتیکه ضریب تراکم پذیری Z=۱/۷۶ باشد، محاسبه کنید؟

$$R = 0.082 \frac{L.atm}{mol.K}$$

$$P_c = 33 / 5 atm$$

$$T_c = 126 / 2 K$$